
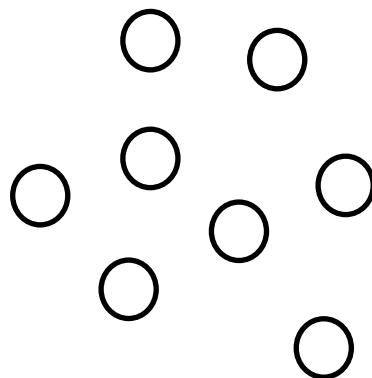
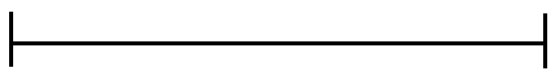


Příloha 1

Vyber si jeden ze čtyř obrázků. Na vybraném obrázku vyznač (vybarvi) $\frac{3}{4}$ (tři čtvrtiny).



Příloha 2

V každém z uvedených obrázků vyznač (vybarvi) $\frac{3}{4}$ (tři čtvrtiny).

